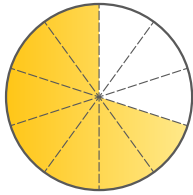


請寫上有顏色部分佔全圖的幾分之幾及其小數。

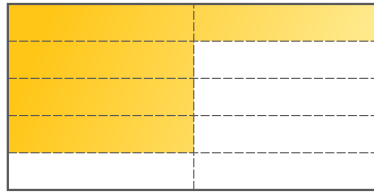
①



分數：_____

小數：_____

②



分數：_____

小數：_____

③請在以下問題填上適當的整數，分數和小數。

整數	分數	小數
27 米	(i) _____ 公里	(ii) _____ 公里
(iii) _____ 米	$\frac{3}{8}$ 公里	(iv) _____ 公里
(v) _____ 厘米	(vi) _____ 米	1.3 米

計算下列各題，並將答案約至最簡。

④ $2\frac{2}{3} + \frac{7}{10} =$

④ _____

⑤ $4\frac{8}{15} - 3\frac{3}{20} =$

⑤ _____

⑥ $\frac{2}{3} + \frac{1}{15} - \frac{7}{10} =$

⑥ _____

⑦ $\frac{1}{2} + \left(\frac{3}{4} - \frac{2}{5}\right) =$

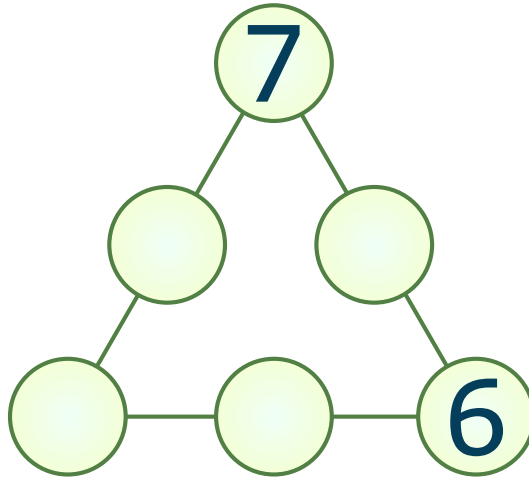
⑦ _____

⑧請問答以下關於某一個月份的問題。

(i) 如果第二個星期日是 12 號，第一個星期日就是 _____ 號。

(ii) 如果 4 號是星期六，28 號就是 _____。

⑨請用 3 至 8 填寫在圓圈裡，使三角形每條邊的和為 18。每個數目字只能用一次。



⑩請用以下 3 張數字卡組成 3 位數，有多少個 3 位數比 650 大？



答案：_____

⑪請根據圖中乘數的規律，於線上寫上正確答案。

$$3 \times 3 = 9$$

$$33 \times 33 = 1\ 089$$

$$333 \times 333 = 110\ 889$$

$$3\ 333 \times 3\ 333 = 11\ 108\ 889$$

(i) $33\ 333 \times \underline{\hspace{2cm}} = 1\ 111\ 088\ 889$

(ii) $3\ 333\ 333 \times 3\ 333\ 333 = \underline{\hspace{2cm}}$

* 答案請掃描 QR code。

* 版權歸 TOPick 及 Eye Level 所有。
I am the key.

