

加法（四位數）

一. 計算以下題目。

① $5754 + 2785 + 867 =$ _____

$$\begin{array}{r} 5754 \\ + 2785 \\ \hline \square \\ + 867 \\ \hline \square \end{array}$$

② $4673 + 3525 + 326 =$ _____

$$\begin{array}{r} 4673 \\ + 3525 \\ \hline \square \\ + 326 \\ \hline \square \end{array}$$

③ $2867 + 3278 + 625 =$ _____

$$\begin{array}{r} 2867 \\ + 3278 \\ \hline \square \\ + \square \\ \hline \square \end{array}$$

④ $1827 + 973 + 6275 =$ _____

$$\begin{array}{r} 1827 \\ + 973 \\ \hline \square \\ + \square \\ \hline \square \end{array}$$

⑤ $3648 + 2985 + 1264 =$ _____

$$\begin{array}{r} 3648 \\ + 2985 \\ + 1264 \\ \hline \square \end{array}$$

⑥ $5642 + 1352 + 456 =$ _____

$$\begin{array}{r} 5642 \\ + 1352 \\ + 456 \\ \hline \square \end{array}$$

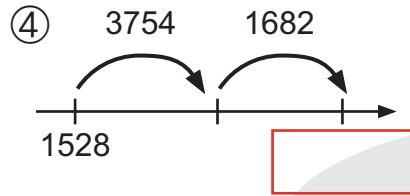
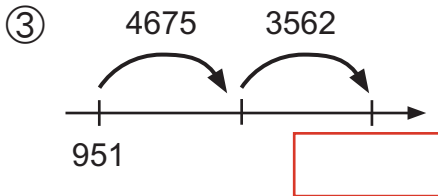
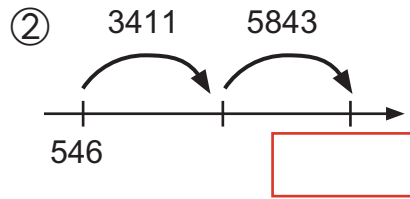
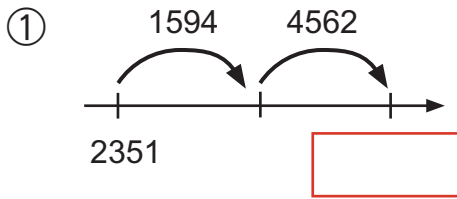
⑦ $4685 + 561 + 2542 =$ _____

$$\begin{array}{r} \square \\ + 561 \\ + 2542 \\ \hline \square \end{array}$$

⑧ $4521 + 2134 + 562 =$ _____

$$\begin{array}{r} 4521 \\ + \square \\ \hline \square \end{array}$$

二. 在方格內填上正確數字。



三. 列式計算以下的題目。

①主題公園內有 1879 名成人，數目比小童少 1672。問主題公園內共有多少名客人？

②志明花了 3652 元購買機票和 1486 元預訂酒店房間後，他還剩下 3716 元。問志明原有金錢多少元？

③在小組報告上，仲恩寫了 2437 字，小文寫了 1726 字，他們至少要合共多寫 1837 字才能遞交報告。問小組報告上最少需寫多少字？

