

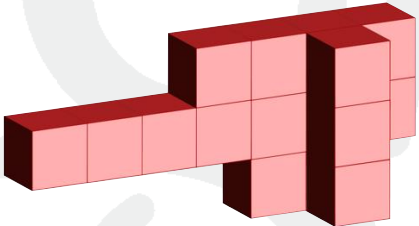


短答題

- 1) A、B、C、D 四人的平均體重是 43.75 kg。A、B、C 三人的平均體重是 44.45 kg。如果 D 和小明的平均體重是 48.9 kg，小明重多少 kg？ 1) _____
- 2) 以下立體圖形都是由相同體積的正方體砌成，哪個立體的體積與其他不一樣？ 2) _____
- A. 
- B. 
- C. 
- 3) 數學測驗，28 人及格，7 人不及格，及格的學生佔全班百分之幾？ 3) _____
- 4) 盛有水的正方體容器邊長 7 cm，浸入一小球後，水面上升 2 cm，小球體積是多少立方厘米？ 4) _____
- 5) 一個三角形的底邊長度為 15 厘米，高度是底邊長度的一半，請問這個三角形的面積是多少平方厘米？(以兩位小數作答) 5) _____

應用題

- 1) 一幅長方形的平原的長比它的闊長 5 m。如果它的周界是 66 m，求它的長和闊。

- 2) 媽媽今年 42 歲， n 年前媽媽的歲數剛好是 5 的 n 倍，問 n 是多少？(設方程作答)

3) 如果一間學校去年的學生人數是 600，其中 96 人今年離開學校，該校學生人數減少了百分之幾？

