





短答題

- 1) 小狗三個月大時重 5.6 kg，一年後的今天重 14.3 kg，牠現在比三個月大時重了多少倍？（取至最接近的兩位小數） 1) _____
- 2) 雞肉味狗糧每包 12 公斤，售\$610，平均每 100 克的價錢是多少？（取至最接近的一位小數） 2) _____
- 3) 下列哪一個數的值最小？ 3) _____
- A. 3.81
B. $3\frac{4}{5}$
C. $\frac{127}{33}$
D. 379%
- 4) 有 3 枝膠棒 P，5 枝膠棒 Q，及 4 粒膠珠，如果要製作一個五角柱體，還須添加膠棒 P 和膠珠各多少？ 4) _____
-  膠棒 P
 膠棒 Q
 膠珠
- 5) 哪個角柱體的稜數比面數多 4？ 5) _____

應用題

- 1) 朱古力糖每盒售 24.4 元。小明有 160 元，最多可買朱古力糖多少盒？還餘多少元？



- 2) 媽媽搾了西瓜汁 2.5 升，菠蘿汁 1.85 升，她把兩種果汁混合在一起，並倒入一個大瓶中，然後平均分成 6 個瓶子，每個瓶子有果汁多少升？(答案取至最接近的兩位小數)



- 3) 某圓形運動場半徑為 56 米，現於運動場的外圍鋪設一條闊 4 米的跑道，跑道的外圍長多少米？

