

短答題

① 假如你現在面向西南方，順時針轉2個半直角後，將會背向哪個方向？

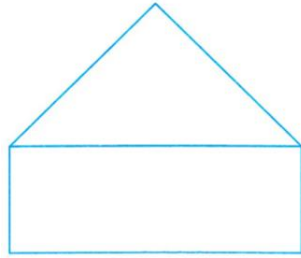
① _____

② 豐年今年 y 歲，媽媽 $29+y$ 歲，豐年10歲時和媽媽40歲時相差多少年？

② _____

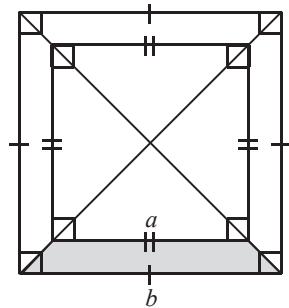
③ 下圖中，等腰三角形的周界是 $24\frac{2}{5}$ 厘米，長方形的闊是 $4\frac{1}{5}$ 厘米，全圖的周界是多少厘米？

③ _____



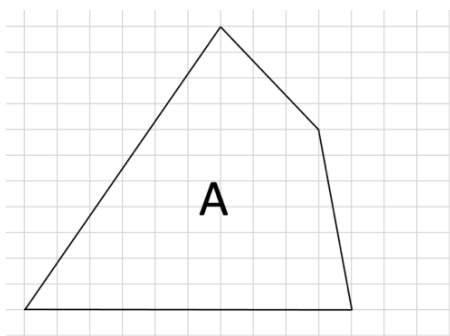
④ 如 $a=5\text{cm}$ ， $b=7\text{cm}$ ，求下圖陰影部份的面積。

④ _____



⑤ 下圖中每格的邊長是 2cm ，四邊形A的面積是多少？（提示：使用填補法來計算）

⑤ _____



應用題

- ① 老貓有38條小魚，先吃了17條，再把餘下的 $\frac{2}{7}$ 送給小貓，小貓得到小魚多少條？

- ② 佳明去年身高 $1\frac{3}{5}$ 米，今年長高了2cm，佳明今年身高多少米？

- ③ 妹妹昨天共睡了 $6\frac{1}{3}$ 小時，今天比昨天多睡 $1\frac{5}{12}$ 小時，她兩天共睡了多少小時？



- ④ 1000 升的汽油，用去了 $\frac{4}{5}$ 後再取出走 800 毫升，還餘下汽油多少毫升？

