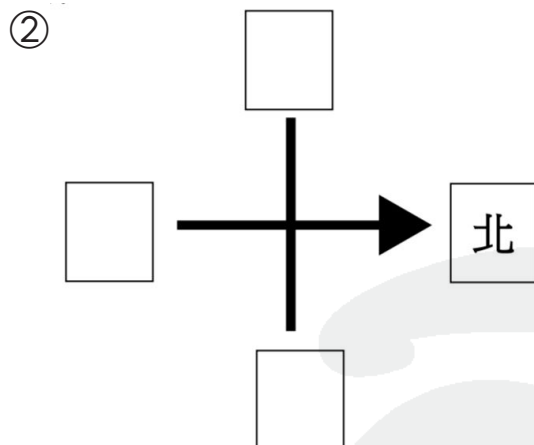
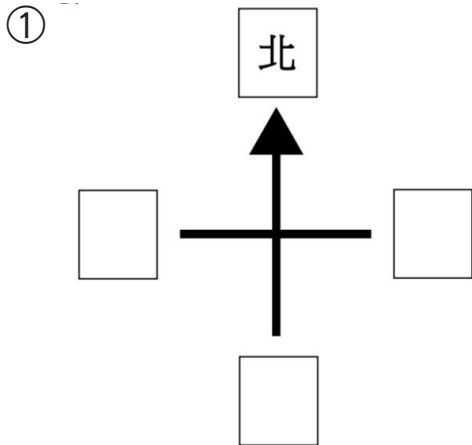


一．把適當的方向填在方格內。



二．選擇正確答案，並在○塗黑。

① 早上，太陽在哥哥的左面升起，哥哥正面是哪一方？

- A. 東方 ○ B. 南方 ○ C. 西方 ○ D. 北方

② 心怡面向南方，她向右轉一個直角，會面向哪一方？

- A. 東方 ○ B. 南方 ○ C. 西方 ○ D. 北方

③ 姐姐和哥哥面對面站立，姐姐面向西方，哥哥面向哪一方？

- A. 東方 ○ B. 南方 ○ C. 西方 ○ D. 北方

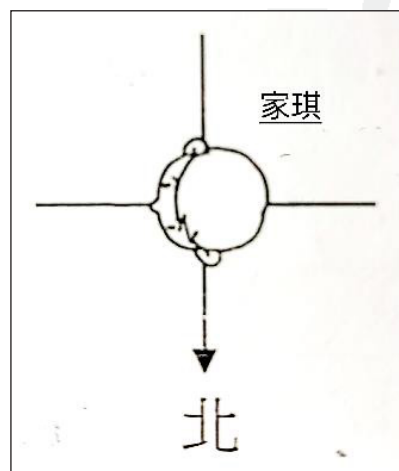
三．回答下列各題，把答案填在橫線上。

① 右圖展示了家琪所在位置。

(a) 家琪面向 _____ 方。

(b) 家琪背向 _____ 方。

(c) 家琪向左轉一個直角，她會面向 _____ 方。



② 下面是遊樂場平面圖。

		
摩天輪	旋轉木馬	
		
馬戲團	小食亭	碰碰車
		
過山車	海盜船	出口

- (a) 海盜船在出口的 _____ 方。
- (b) 馬戲團在摩天輪的 _____ 方。
- (c) _____ 在小食亭的西方。
- (d) 小美由旋轉木馬前往出口，她先向 _____ 方走，
經過小食亭及海盜船，再向 _____ 方走便可到達。

- ③ 下面是動物園的平面圖，猴子樂園在樹熊館的北方。依下圖，把答案填在（ ）內。

兔子園	雀鳥天地	樹熊館
企鵝世界	紀念品店	猴子樂園
	金魚世界	小羊館

- (a) 樹熊館在（ ）的南方。
- (b) 嘉嘉由雀鳥天地前往小羊館。她先向（ ）方走到達樹熊館後，再向（ ）方一直便可到達。
- (c) 美怡由企鵝世界前往雀鳥天地。她先向（ ）方，經過紀念品店後，再向（ ）方走便可到達。

