

①請寫上各單位的中文用詞。

$m^2 =$ _____

$km^2 =$ _____

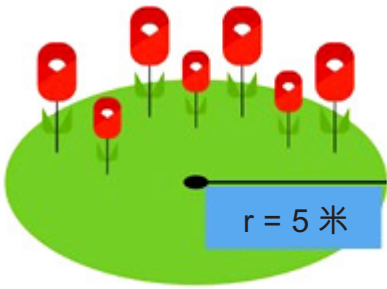
$cm^2 =$ _____

②請在下列橫線上填上正確的數字。

直徑 = _____ × 半徑

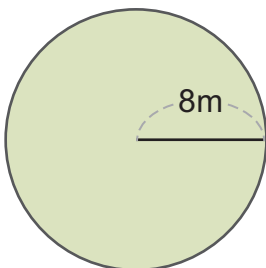
$\pi =$ _____

③小天準備在花園種植花朵，她想知道整個花園的大小，但她只知道花園的半徑是5米，你可以幫幫小天找出整個花園的面積嗎？



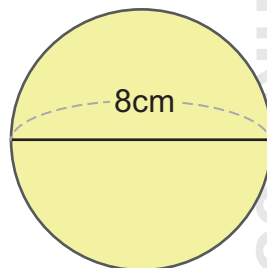
③ _____

④ (a) 求圓形面積。



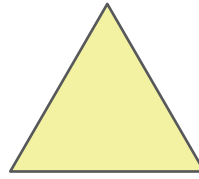
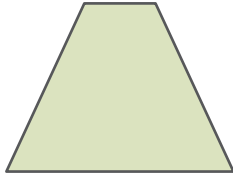
(a) _____

(b) 求圓形面積。




(b) _____

⑤請畫出每個圖形的對稱軸。



⑥小嚴和媽媽正在製作花瓶，試回答以下問題。



(a) 請找出花紋花瓶的體積。

(a) _____


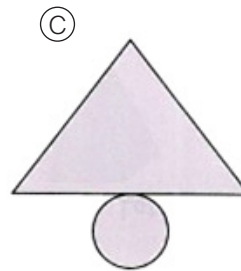
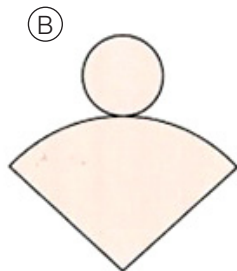
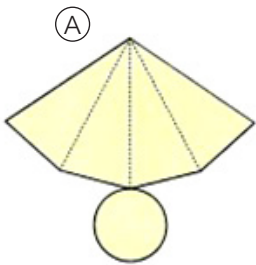
(b) 請找出葉紋花瓶的體積。

(b) _____

(c) 請問哪一個花瓶的體積較小？

(c) _____

⑦以下哪個選項可以摺成圓錐體？



⑦ _____

