
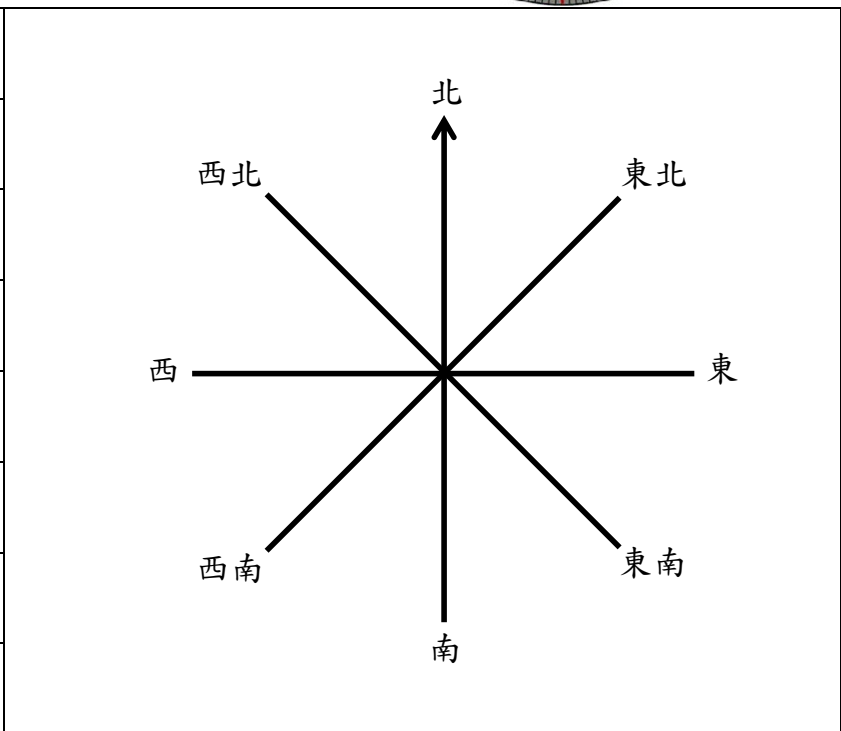


八個方向

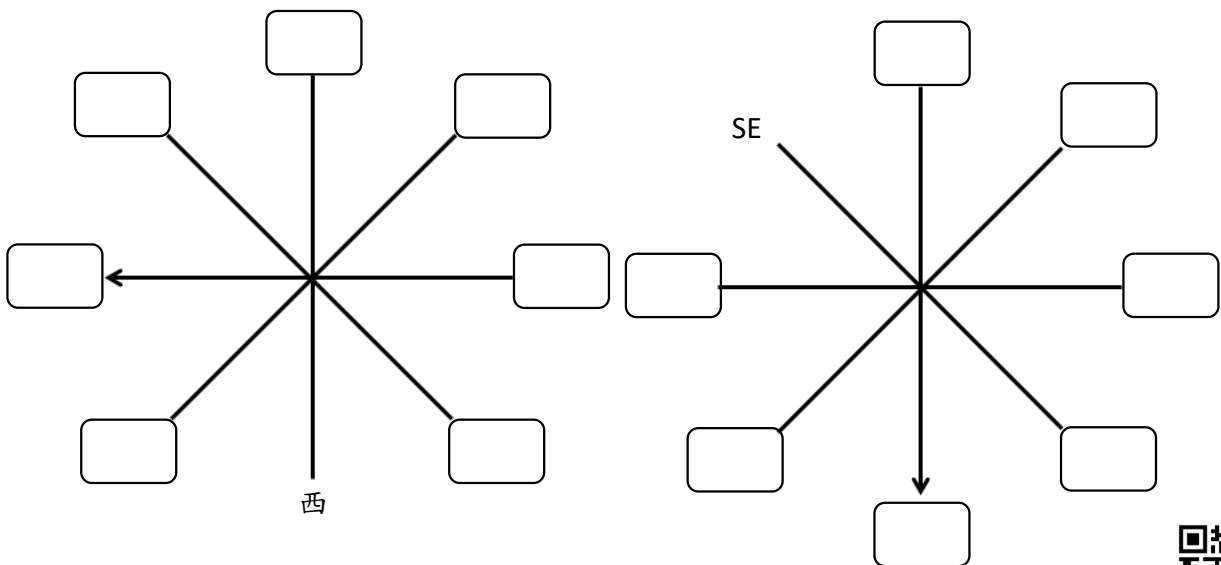
日常例子：指南針/颱風信號



東	East(E)
南	South(S)
西	West(W)
北	North(N)
東北	North East(NE)
東南	South East(SE)
西北	North West(NW)
西南	South West(SW)



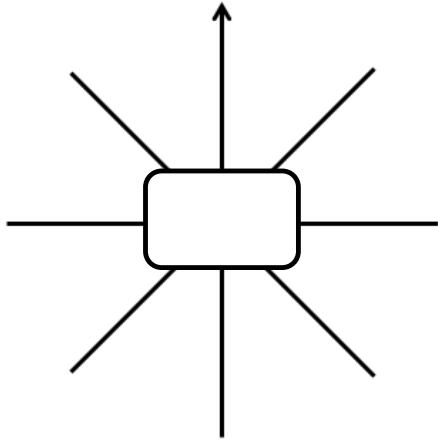
熱身題目：東南西北(順時針循環)



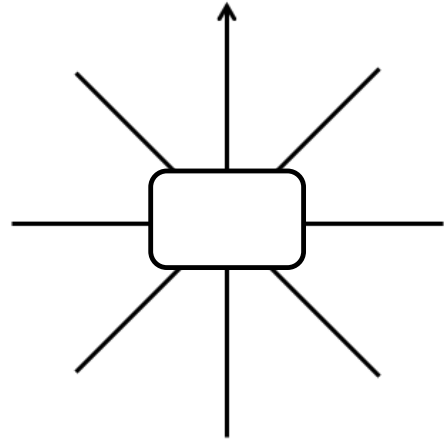
掃描 QR Code
查閱教學影片及工作紙答案

Lv 1 題目：「的」字前面是主角，放「十」字

1. 小明在小志的南方，小志的西方是小怡。



2. 公園的西南方是商場，公園在泳池的南方。



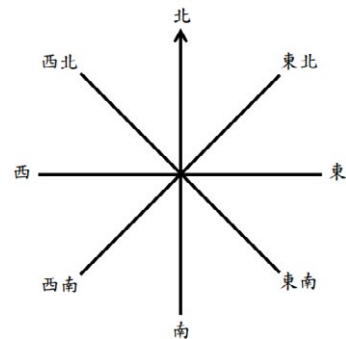
Lv 2 題目：

前後左右方向

左轉/右轉 2 個直角 = 背面

左轉/右轉 4 個直角 = 不變

特別注意**面向/背向**，左轉右轉



1. 如果哥哥面向東南方，即是背向哪一方？

1.

2. 叔叔面向正北方行走，當他向右轉了一個直角後，

他會背向哪個方向？

2.

3. 媽媽面向東北方，她向右轉兩個直角後，她背向哪一方？

3.

4. 弟弟背向北方，他向左轉兩個直角後，他背向哪一方？

4.

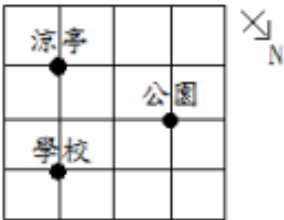
5. 爸爸在小倩的西北方，小倩在爸爸的哪一方？

5.

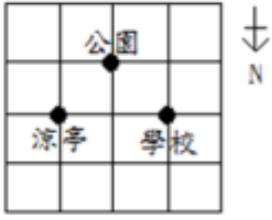
Lv 3 題目：挑戰題

1. 媽媽在公園面向學校看到哥哥，哥哥面向西北方看到涼亭，

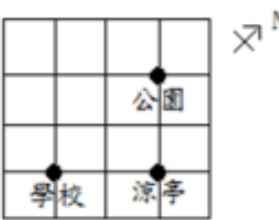
下面哪一個選項所標示的方向是正確的？



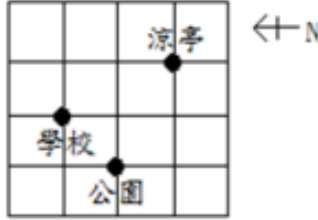
A.



B.



C.




D.


2. 小任把他的手錶平放在桌子上，錶面向上，如下圖所示。如果分針指着西南方，

下面哪一個選項所標示北的方向是正確的？

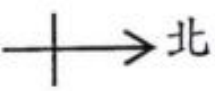
A.



B.



C.



D.

