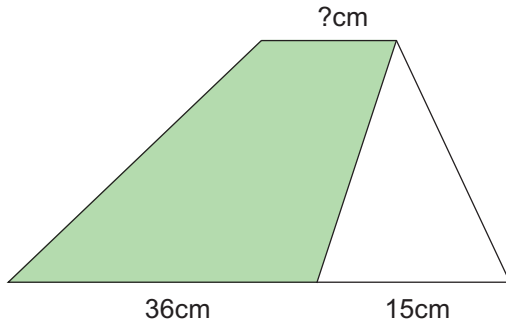


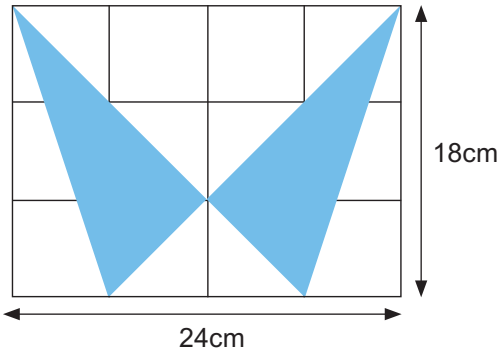
短答題

- ① 下圖中的三角形面積是 90 平方厘米，陰影部份的面積是 282 平方厘米，梯形的上底是多少厘米？



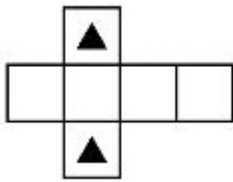
① _____

- ② 求下圖藍色部份面積。



② _____

- ③ 下面的摺紙圖樣可以摺成哪一個立體圖形？



③ _____

- ④ 媽媽買了價值 \$23.4 的綠茶、\$16.9 的可樂和 \$20.8 的檸檬茶各一支，用上了一張九折優惠券及 \$60 現金，請問她可找回多少元？

④ _____

- ⑤ 承上題，如果綠茶和可樂的價錢分別增加了 \$1.8 和 \$0.8，用上一張九五折優惠券，媽媽能用 \$60 現金買到綠茶、可樂和檸檬茶各一支嗎？

⑤ _____

應用題

① 小文有 $156\frac{1}{5}$ 元，比小明多 $\frac{2}{7}$ ，兩人共有多少元？（提示：設小明有 y 元）

② 1000 減去某數的 6 倍等於 400，某數是 5 的多少倍？（設方程作答）

③ 求下圖多邊形的面積。

