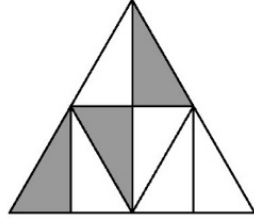


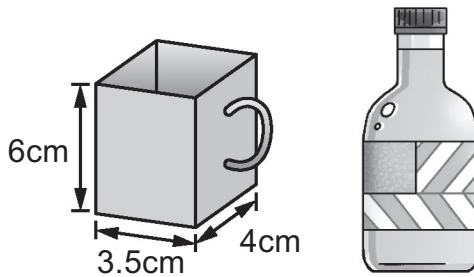
短答題

① 下圖的陰影部分佔全圖多少百分比？



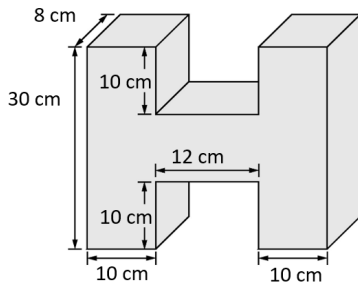
① _____

② 下方右圖中的瓶子盛了 2.5 公升的水。現把瓶子中的水倒滿入左圖所示的小方杯中，共需要 _____ 個小方杯才能盛載瓶中所有的水。



② _____

③ 下圖立體的體積是多少立方厘米？把它放入一個裝滿水的水桶裡，會溢出多少升的水？



③ _____

④ 一個儲水池每天早上 6 時淡水會通過進水管以每小時 42 升的速度注入池中，07:30 可把水池注滿。每天下午一時再以每小時 36 升的速度排水，何時才可排完整池的水？

④ _____

⑤ 志強、志明和志昌三兄弟的總歲數是 36 歲，志強和志昌的平均歲數是 9.5 歲，那麼志明多少歲？

⑤ _____

⑥ 承上題，他們的初生妹妹今日出世，一年後他們四人的平均年齡是多少歲？

⑥ _____

應用題

① 爸爸駕車在 36 分鐘內行駛了 36 公里到達公司，他駕駛汽車的平均速率是多少？

.....

② 承上題，在回程時爸爸把速度提升了 10 公里每小時，問回程時間比去程快多少分鐘？（取一位小數）

.....

③ 一輛巴士離開曼谷並向東面駛去。同一時間，另一輛巴士離開同一地點並向西面駛去。第一輛巴士所行駛的距離比第二輛巴士所行駛的距離的兩倍少 30 km，且兩輛巴士相距 336 km。求每輛巴士所行駛的距離。

.....

