

短答題

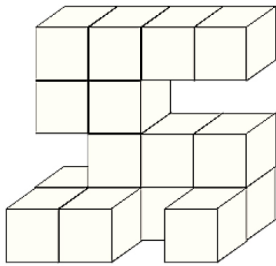
① 路長 8 公里，已走了 $\frac{3}{4}$ 又多 567m，還餘多少 km 未走？ ① _____

② 下午五時正，把時鐘放平在地，時針方向指向北方， ② _____

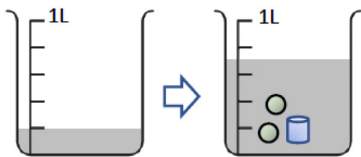
過了多少分鐘後，分針指向西方？

③ 下圖中的立體是由多個邊長為 2 cm 的正方體組成， ③ _____

求該立體的體積。



④ ④ _____




根據上面兩圖，一個球體的體積是多少 cm^3 ？


⑤ $\frac{20}{35} = \frac{D}{42} = \frac{E}{28}$ ， D 和 E 分別是多少？ ⑤ _____

應用題

⑥ 膠板邊長 4 米，闊 1.2 米，若每平方米售價是 16.8 元，買 25 塊需要花多少元？



⑦ 正方形周界是 $28\frac{4}{5}$ 厘米，它的面積是多少平方厘米？



⑧ 弟弟的歲數是爸爸的 $\frac{1}{4}$ ，五年後弟弟 16 歲，那時爸爸多少歲？（設方程作答）

