

一、在 () 內填寫以下各組貨幣的總值。

①  () 元 () 角




②  () 元

二、在 () 內填上答案。

① 3 張  可換得 () 個  。

② 1 張  和 2 張  可換得 () 個  。

③ 1 張  可換得 () 張  。

④ 1 張  可換得 () 張  和 5 張  。

⑤ 林小姐有以下的款項。



每張西餅券售 50 元，她最多可以購買 () 張西餅券。


⑥ 哥哥有以下的款項。



羽毛球拍 \$304.00

- (a) 哥哥購買一個羽毛球拍後，還餘 () 元 () 角。
- (b) 一筒羽毛球售 34 元，他用餘下的款項購買一筒羽毛球後，還餘 () 元 () 角。

⑦



- (a) 用阿拉伯數字寫出一條紙巾的標價。() 元 () 角。
- (b) 媽媽付一張 100 元紙幣，購買了兩條紙巾，應找回(圈出以下貨幣)。



⑧ 以下是子樂購買遊樂場代幣所付的款項。



- (a) 子樂付了 () 元購買遊樂場代幣。
- (b) 每 10 元可換得一個代幣，他共可換得代幣 () 個。

