

一、在 () 內填寫以下各硬幣的幣值。





- ①  () 元
- ②  () 元
- ③  () 角
- ④  () 元
- ⑤  () 元 () 角

二、選擇正確答案，並在○塗黑。

① 以下哪一種硬幣同時有金色和銀色？

- A. 一角 B. 五角 C. 五元 D. 十元



② 以下哪一組硬幣不足夠購買  \$2.3 ？


- A.  ○ B. 
- C.  ○ D. 


三、在 () 內填寫答案：

① 依照各硬幣的幣值由小至大排列：

() ， 2 角 ， () ， 1 元 ， () ， 5 元 ，
()

② 10 個  可換得 () 個  。

③ 4 個  可換得 () 個  。

④ 1 個  可換得 () 個  。

⑤ 小明 到玩具店購物。

(a) 一輛玩具車售十三元三角，在標價牌寫出它售價。



(b) 小明 想買一輛玩具車，應付款多少？圈出須付的硬幣。



⑥ 以下是媽媽乘巴士所須的車費。






(a) 她用了 () 個二元硬幣付款。



(b) 她付了車費 () 元 () 角。

⑦ 以下是小食店食物的價目表，圈出及填寫正確答案。

 \$12.6	 \$6.6	 \$13.8
--	---	--

(a) 以上售價最貴的是 ( /  / )。哪種食物的售價在 10 元以下？

( /  / )

(b)  比  (貴 / 便宜) () 元 () 角。

(c) 哥哥有    ，他 (有 / 沒有) 足夠款項

購買熱狗 ，他 (還餘 / 尚欠) () 元 () 角。

(d) 小美只有七元，她只能購買 ( /  / )。

