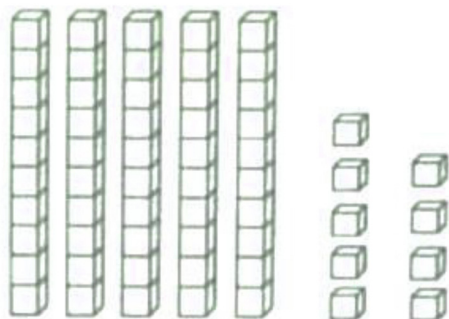


一. 計算下列各題，把答案填在括號內。

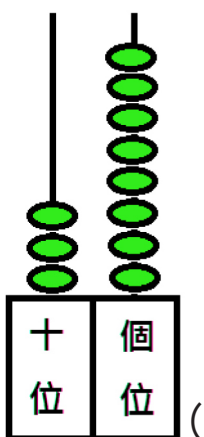
①



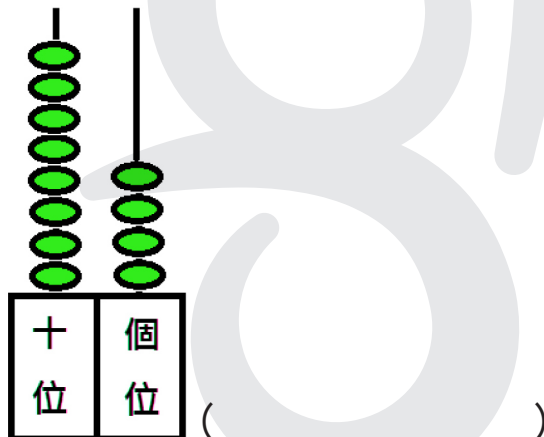
左圖共有正方體 ( ) 粒。

② 用阿拉伯數字寫出以下算柱表示的數。

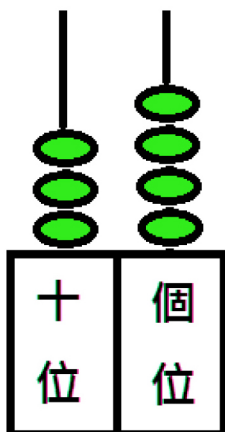
a)



b)



③ 看算柱，填一填。



左圖中，

算柱表示的數是 ( )，

讀作 ( )。

( ) 在個位，表示 ( )。

( ) 在十位，表示 ( )。

④ 74 這個數中，4 在 ( ) 位，表示 ( ) 。

7 在 ( ) 位，表示 ( ) 。

74 是 ( ) 個 10 和 ( ) 個 1。

$74 = ( ) + ( )$

⑤ 填寫「>」或「<」。

a)  $9 ( ) 23$

b)  $50 ( ) 25$

c)  $26 ( ) 20$

d)  $14 ( ) 28 ( ) 52$

⑥ 依規律填上數字。

a) 45, ( ), 47, ( ), ( ), 50, ( )

這是 順數 / 倒數 \*。 (\* 圈出答案)

b) 72, 71, 70, ( ), 68, ( ), ( )

這是 順數 / 倒數 \*。 (\* 圈出答案)

c) 62, 60, ( ), 56, ( ), ( ), 50

這些數都是 單數 / 雙數 \*。 (\* 圈出答案)

二. 選擇正確答案，並在○塗黑。

① 下列哪個數比 55 小，但比 48 大？

- A. 32      ○ B. 42      ○ C. 53      ○ D. 56

② 以下哪個數的十位數字是「3」，而個位數字是「7」？

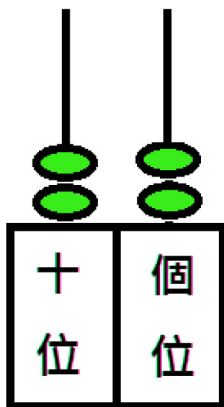
- A. 3      ○ B. 7      ○ C. 37      ○ D. 73

③ 如果以下的數是由小至大排列，★會是哪個數？

(最小) 55，★，77 (最大)

- A. 50      ○ B. 63      ○ C. 78      ○ D. 97

④



家怡把左面的算柱，十位上的一粒算珠移至個位。這個數會變成甚麼？

- A. 12      ○ B. 13      ○ C. 21      ○ D. 31

