

一．把答案填在括號內。

① $43891 = (\quad) + 3000 + (\quad) + 90 + (\quad)$

② $67309 = (\quad) + 7000 + (\quad) + (\quad) + (\quad)$

③ $21002 = (\quad) + (\quad) + (\quad) + (\quad) + 2$

二．在括號內寫出下列各數的讀法。

① 60031 讀作 ()

② 94200 讀作 ()

③ 50504 讀作 ()

④ 30010 讀作 ()

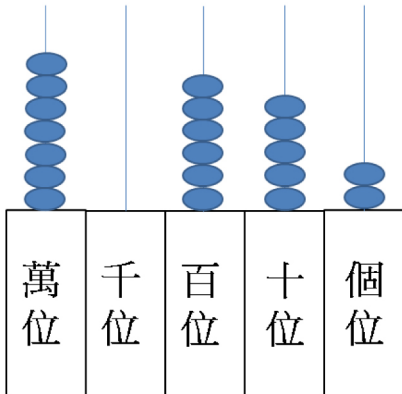
三．用阿拉伯數字寫出下列各數。

① 八萬六千 = ()

② 三萬六千二百四十 = ()

③ 二萬八千零七 = ()

四．看算柱，把答案填在括號內。



① 算柱所表示的數是 ()，讀作 ()。

② 在這個數中，

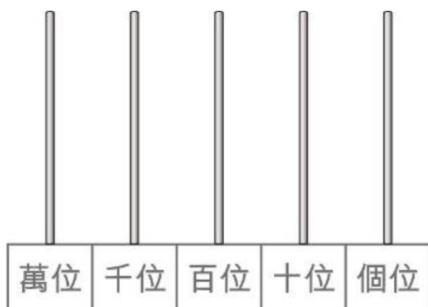
() 位的數字是 0，表示 ()；

() 位的數字是 5，表示 ()；

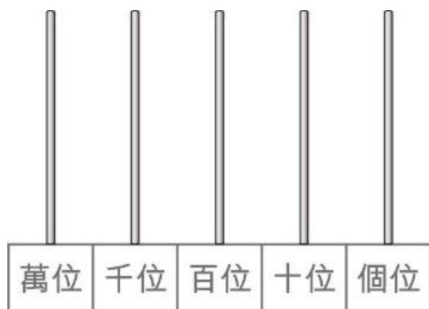
個位的數字是 ()，表示 ()。

五．在算柱畫上算珠，表示以下各數。

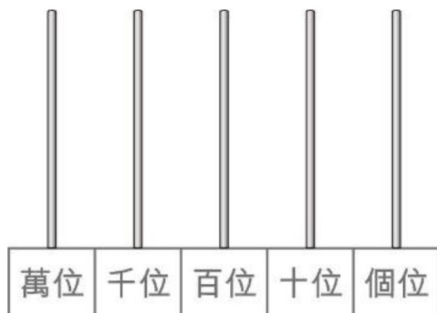
① 在算柱上畫算珠，表示「三萬八千零四十九」。



② 在算柱上畫算珠，表示「45123」。



③ a) 把 7 粒算珠畫在算柱上，表示出最小的五位奇數。



b) 算柱所表示的數是 ()。讀作 ()。

④ 從以下的數字選出五個數，排出指定的五位數。

8、0、8、9、1、5

a) 最小的五位數：()

b) 最小的五位奇數：()

c) 最大的五位偶數：()

