



一. 計算下列各平面圖形的周界或邊長。(答案須寫上單位)

① 1.



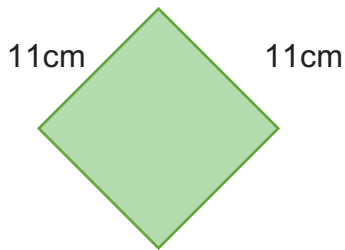
周界是 ( )°

②



周界是 ( )°

③



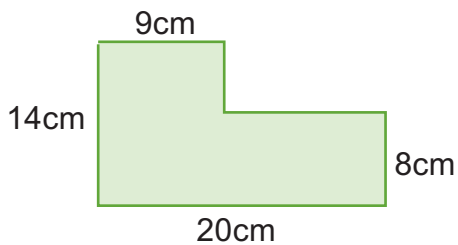
周界是 ( )°

④



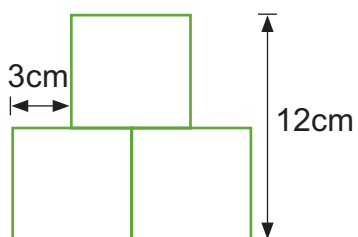
長是 ( )°

⑤



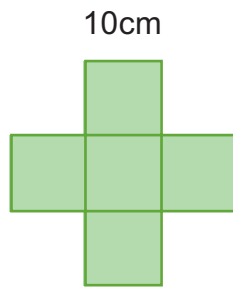
左圖的周界是 ( )°

⑥




左圖由三個相同的正方形組成，周界是 ( )°

⑦



左圖由五個相同的正方形組成，周界是 ( )。

⑧



把左圖的兩個小三角形合併成一個大三角形，這個大三角形的周界是 ( )。

二. 列式計算下列各題。

① 一個正方形的花園的周界是 224 米，花園的邊長是多少米？

② 嘉明 圍繞一塊長 45 米，闊 25 米的長方形草地跑了 4 圈，他共跑了多少米？

