


一. 數一數，在橫線上填寫答案，並圈出答案。

①



數量：_____

這個數是（單 / 雙）數。

②



數量：_____

這個數是（單 / 雙）數。

③



數量：_____

這個數是（單 / 雙）數。

二. 在括號內填寫「+」或「-」。

① $3 () 5 = 8$


② $0 () 7 = 7$

③ $9 () 3 = 6$

④ $10 () 3 = 7$

三. 依圖意，在括號內填上答案。

①



() + () = ()

②





() - () = ()

四. 比較下列各題，在括號內填上及圈出答案。

①



 比  (多 / 少) () 個。

②



(a) ( /  / ) 的數量最多，
有 () 輛。

(b) ( /  / ) 的數量最少，
有 () 輛。

(c)  比  (多 / 少) () 輛。

(d)  比  (多 / 少) () 輛。

五. 計算下列各題，將答案填在括號內或圈出答案。

① $3 + 5 = (\quad)$

② $10 - 4 = (\quad)$

③ $9 - 0 = (\quad)$

④ $(\quad) + 4 = 8$

⑤ $7 - 5 = (\quad)$

⑥ $(\quad) + 8 = 8$

⑦ $(\quad) - 4 = 6$

⑧ 5 比 1 (大 / 小) 。

⑨ (6 / 3 / 9) 比 5 大，但又比 7 小。

⑩ 10 以內最大的單數是 (10 / 9 / 1) 。

