

一. 選擇正確的答案，在○內填上顏色。

① 鐘面上最大的數字是甚麼？

- A. 12 B. 10 C. 6 D. 9

② 以下哪個時間是鐘面上的時針和分針會重疊在一起？

- A. 1 時 B. 6 時 C. 9 時 D. 12 時

③ 以下鐘面顯示的時間是



- A. 6 時半 B. 7 時半 C. 8 時半 D. 9 時

④ 以下鐘面顯示的時間是



- A. 差一些 10 時 B. 10 時 C. 10 時多些 D. 10 時半

⑤ 美兒開始上游泳班的時間，鐘面上長的指針指着 12，短的指針指着 6。

美兒何時上游泳班？

- A. 6 時 B. 6 時半 C. 12 時 D. 12 時半

⑥ 巴士在 11 時半從屯門站開出，於 1 時半到達開心小學。全程車程需時多少？

- A. 1 小時 B. 2 小時 C. 3 小時 D. 4 小時

二. 在括號內填上正確答案。

① 現在的時間是 1 時半，鐘面的分針指着 (1 / 6 / 12 *) 。 * 圈出答案

② 以下是媽媽開始和結束做家務的時間。

開始時間



結束時間




a) 媽媽做家務用了 () 小時。

b) 爸爸在媽媽做家務時回到家中，爸爸回家的時間可能是


(1 時 / 3 時 / 4 時 *) * 圈出答案

③ 以下是哥哥參加足球班的開始和結束時間。

開始時間




結束時間



- a) 足球班的開始時間是 () 。
- b) 足球班的結束時間是 () 。
- c) 哥哥參加足球班用了 () 小時。

④ 以下為小美開始做功課的時間。



- a) 小美在 () 開始做功課。
- b) 小美用了 2 小時做功課，她在 () 完成功課。
- c) 小恩與小美同一時間開始做功課，並在 2 時 30 分做完，(小美 / 小恩 *) 較快完成功課。* 圈出答案

⑤ 陳小姐在下午 3 時至 5 時吃下午茶，在晚上 7 時半至 10 時半聽音樂會。

- a) 陳小姐吃下午茶用了 () 小時。
- b) 陳小姐聽音樂會用了 () 小時。
- c) (吃下午茶 / 聽音樂會 *) 所用的時間較短。* 圈出答案

