

一. 在橫線上填上正確的答案。

① 在香港通用硬幣共有多少種？

① _____

② 哪一種硬幣的幣值最小？

② _____

③ 圓形的硬幣共有多少種不同的幣值？

③ _____

④ 香港通用硬幣中，整個都是金色的有多少種？

④ _____

⑤ 哪一種硬幣是銀色而又波浪形的？

⑤ _____

二. 在括號內填上正確答案。

⑥ 一個  可以換得 () 個 。

⑦ 一個  可以換得 () 個 。

⑧     共值 () 元 () 角。

⑨



⑩ 以下是小欣乘坐巴士的車費。



(a) 她用了 () 個五元硬幣付款。

(b) 她付了 () 元 () 角。


⑪ 購買以下食品需付款多少？把適當數量的硬幣圈起來。


(以最少的硬幣數量付款)




⑫ 根據下圖，回答問題，並圈出答案。



(a)  的售價是 () 元 () 角。

(b)  的售價比  (便宜 / 貴) () 元 () 角。

(c) 小晴錢包有      

她買了  後，還餘下 () 元 () 角。

(d) 爸爸購買  和  共需付 () 元 () 角，

請圈出總售價。(以最少的硬幣付款)

