

①請寫上各單位的中文用詞。

km =	mL =
cm =	mm =
L =	kg =
m =	g =

②請在 () 內填寫正確的符號 [> , < 或 =]。

94mm () 10cm	8cm 3mm () 81mm
789m () 1km	589km () 58km 120m
110mm () 12cm 9 mm	2 082m () 2km 82m
5L 120mL () 5 020mL	867mL () 8L 67mL
4 730kg () 4kg 73g	9 900g () 9kg 900g

③欣欣有 1 米 33 厘米高。他的爸爸比她高 45 厘米。
請找出爸爸和欣欣身高的總和。

③ _____

④小星放學後，先去了珍妮家，之後要經過一個公園才回到家。請根據以下資料回答問題。

從學校到珍妮家：1 公里 60 米

從珍妮家到公園：1 公里 5 米

從公園到小星家：800 米

(i) 從珍妮家到小星家要走多遠？

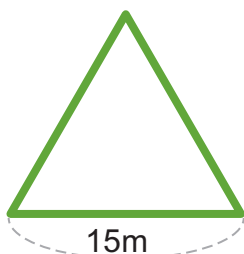
(i) _____

(ii) 小星從學校出發要走多遠才回到家？

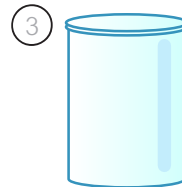
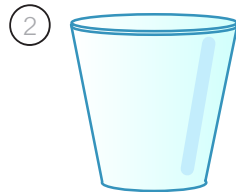
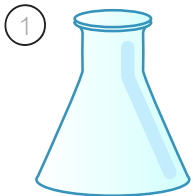
(ii) _____

⑤以下是一個等邊三角形的花田，每一條邊是 15 米。如果在每一條邊上每 5 米種一棵小樹，總共可以種多少棵樹？


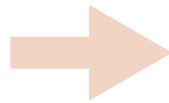
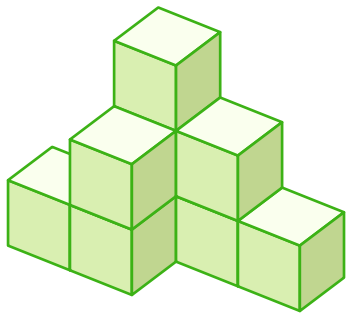
⑤ _____



⑥當以下的牛奶倒進不同的容器中，選出水位最高的容器，並在○內填上顏色。



⑦請找出左邊的圖需要加多少塊積木才會跟右邊有相同數量的積木。



塊積木

⑧丹丹用了 30 元買了一朵玫瑰和兩朵向日葵。思思用了 24 元買了兩朵玫瑰和一朵向日葵。請找出一朵玫瑰和一朵向日葵的價錢。



→ \$

一朵玫瑰：_____



→ \$

一朵向日葵：_____

