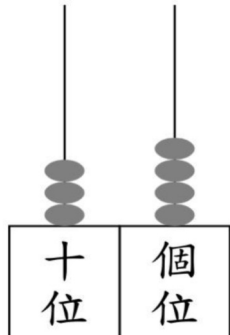


一. 看算柱，填答案在 ( ) 內。



- ① 十位有 ( ) 粒算珠，代表數值是 ( )。
- ② 個位有 ( ) 粒算珠，代表數值是 ( )。
- ③ 這個數讀作：( )

二. 依規律在 ( ) 內填上數字，並圈出答案。

①  $51 \rightarrow ( ) \rightarrow 49 \rightarrow ( ) \rightarrow ( ) \rightarrow 46$

這是 ( 順數 / 倒數 )

②  $( ) \rightarrow 12 \rightarrow 14 \rightarrow 16 \rightarrow ( ) \rightarrow ( )$

這是 ( 順數 / 倒數 )

③  $( ) \rightarrow 70 \rightarrow 75 \rightarrow ( ) \rightarrow ( ) \rightarrow 90$

這是 ( 順數 / 倒數 )

三. 排列下列各數。

① 52, 88, 50

( )  $>$  ( )  $>$  ( )

② 14, 36, 9, 11

( )  $>$  ( )  $>$  ( )  $>$  ( )

③ 72, 88, 56, 75

( )  $<$  ( )  $<$  ( )  $<$  ( )

四. 在 ( ) 內寫上鐘面所顯示的時間。

①



( ) 時 ( ) 分

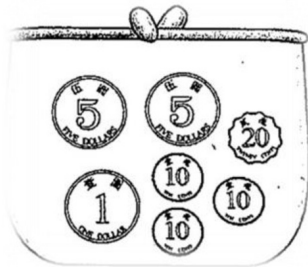
②



( ) 時


五. 在 ( ) 填寫錢包內的硬幣總值，並圈出答案。

①



小美有 ( ) 元 ( ) 角


②



小明有 ( ) 元 ( ) 角

③ ( 小明 / 小美 ) 錢包內的硬幣總值較多。( \*\* 圈出答案 )

六. 在 ( ) 填寫圖中各種圖形的數量。



① 圓形： ( ) 個

② 三角形： ( ) 個

③ 四邊形： ( ) 個

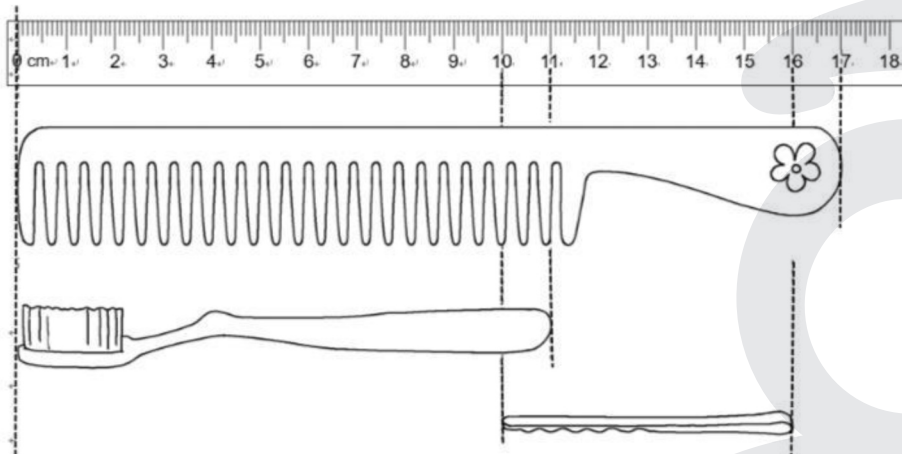
④ 五邊形： ( ) 個

七. 觀察下面的英文字母和數字，把答案填在 ( ) 內。

**A D N O 4 5 8**

- ① 只由直線組成：( )
- ② 由直線和曲線組成：( )

八. 下面的用品長多少厘米？把答案填在 ( ) 內。





- ① 梳子長 ( ) 厘米。
- ② 牙刷長 ( ) 厘米。
- ③ 髮夾長 ( ) 厘米。

九. 計算下列各題，把答案填在括號內。

- ① 6 個 5 是 ( )。
- ② 2 個 20 是 ( )。
- ③ 5 個 10 多 3 是 ( )。
- ④ ( ) 個 2 是 8。
- ⑤  $8 + 22 = ( )$
- ⑥  $20 + ( ) = 28$
- ⑦  $14 - ( ) = 7$
- ⑧ ( )  $- 4 = 9$
- ⑨  $4 + 6 + ( ) = 18$
- ⑩ 在 31 至 70 的數中，最大單數是 ( )，最小的雙數是 ( )。
- ⑪ 比 40 大，又比 50 小的所有雙數，包括 ( )。

- ⑫ 今天是星期三，後天是星期( )。
- ⑬ 一星期共有 7 天，第一天是星期( )。

⑭ 一個  可以換得  ( ) 個。

⑮ 一個  可以換得  ( ) 個。

十. 應用題

- ① 課室書架上有中文書 49 本，英文書 23 本，中文書和英文書相差多少本？

Answer box for question 1.

- ② 橙色波子有 38 粒，藍色波子比橙色波子少 22 粒，藍色波子有多少粒？

Answer box for question 2.

- ③ 西瓜有 28 個，蜜瓜比西瓜多 12 個，西瓜和蜜瓜共有多少個？

Answer box for question 3.

- ④ 雪櫃裏原有雞蛋 20 隻，媽媽做蛋糕用了一打雞蛋，還有雞蛋多少隻？

Answer box for question 4.

